



МОСКОВСКИЙ ГОСУДАРСТВЕННЫЙ УНИВЕРСИТЕТ
имени М.В.ЛОМОНОСОВА

Вариант _____

Место проведения Москва
город

ПИСЬМЕННАЯ РАБОТА

Олимпиада школьников Тюхари Воробьёвы горы!
наименование олимпиады

по физике
профиль олимпиады


Клишторное Артёма Михайловича
фамилия, имя, отчество участника (в родительном падеже)

срок 16-21 апр -

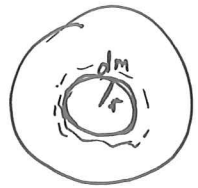
Дата
«04» апреля 2025 года

Подпись участника

Черновик

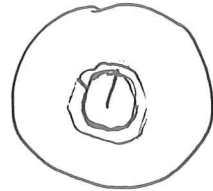


$$J = \int dm \cdot r^2 \quad \left\{ \begin{aligned} J &= \int dm \cdot r^2 = M \cdot r^2 \\ J_k &= M r^2 \end{aligned} \right.$$



$$dJ_k = dm \cdot r^2$$

$$dm = \frac{m}{\pi R^2} \cdot 2\pi r \cdot dr$$

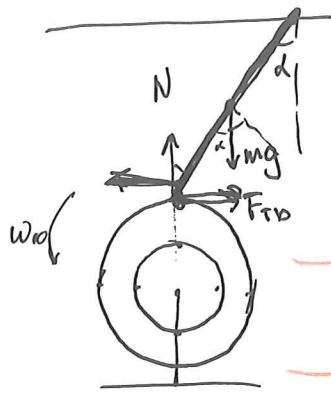


$$F_u = 6 \cdot S$$

$$dm = \frac{2\pi r \cdot dr}{\pi R^2} \cdot m$$

$$J = m \int \frac{2r \cdot dr}{R^2} \cdot r^2 = \frac{m}{R^2} \int 2r^3 \cdot dr$$

$$J = \frac{2m}{R^2} \int_0^R r^3 \cdot dr = \frac{m \cdot 2 \cdot R^4}{2 \cdot 4 R^2} = \frac{m R^2}{2}$$



$$mg \sin \alpha \cdot \frac{L}{2} = N \sin \alpha \cdot k_2$$

$$N = \frac{mg}{2}; \quad F_{тр} = \frac{mg}{2} \mu$$

$$J \frac{d\omega}{dt} = \frac{mg \mu}{2} \cdot R$$

$$dm = \frac{2\pi r \cdot dr}{\pi R^2} \cdot m$$

$$J = \frac{2m}{R^2} \int_{R/2}^R r^3 \cdot dr = \frac{2m}{R^2} \left(\frac{R^4}{4} - \frac{R^4}{16 \cdot 4} \right) = \frac{2m R^4}{2 \cdot 4 R^2} \left(1 - \frac{1}{16} \right)$$

$$J = \frac{m R^2}{2} \cdot \frac{15}{16}$$

$$\omega = \frac{2\pi}{T}; \quad \omega = 2\pi \nu; \quad \nu = \frac{1}{T} = \frac{N}{t}$$

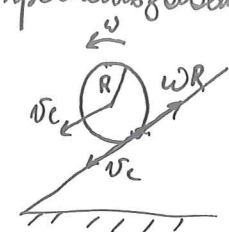
$$\omega = 2\pi N; \quad \omega = \frac{2\pi N}{t}; \quad 15MR \cdot \frac{2\pi N}{t} = \frac{16 \cdot \mu mg}{(1+\mu)} t$$

$$\frac{J \omega_0^2}{2} = A_{тр} = 0$$

$$J \omega_0^2 = 2 A_{тр} = \frac{\mu mg}{2(1+\mu)} \cdot S = \frac{\mu mg}{2(1+\mu)} \cdot 2\pi R \cdot N$$

Черновик

Вопрос 1: Так как цилиндр скатывается без проскальзывания, скорость точки, которая касается поверхности будет равна нулю: $v_c - \omega R = 0$. Из этого мы делаем вывод, что $v_c = \omega R$; $\omega = \frac{v_c}{R}$.



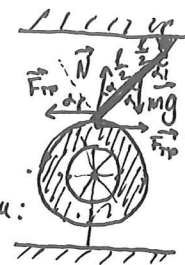
По ЗЭД: $mg h = \frac{m v_c^2}{2} + \frac{J \omega^2}{2}$

$$J = \sum m_i r_i^2; \quad J = \int_0^R \frac{m}{R^2} \cdot 2\pi r \cdot dr \cdot r^2 = \frac{2m}{R^2} \int_0^R r^3 \cdot dr = \frac{m R^2}{2}$$

$$mg h = \frac{m v_c^2}{2} + \frac{m R^2 \cdot v_c^2}{4 \cdot R^2} = \frac{3m v_c^2}{4}; \quad v_c = \sqrt{\frac{4}{3} g h} = 2 \sqrt{\frac{gh}{3}}$$

Дано: $M; m; \omega_0$
 $R; \alpha = 45^\circ$
 $N_1 = 65$
 $\mu = 0.3$
 $N_2 = ?$

Решение: Когда колесо кронулось против часовой: Пусть L - длина стержня. Так как стержень находится в равновесии:



Ур-ние моментов: $mg \frac{L}{2} \sin \alpha = N L \sin \alpha + F_{тр} L \cos \alpha$
 Так как $\alpha = 45^\circ$; $\sin \alpha = \cos \alpha$; $F_{тр} = \mu \cdot N$; $mg = 2N(1 + \mu)$

Ур-ние вращательного движения: сила трения, с которой колесо действует на стержень равна по модулю и противоположна по направлению силе трения, с которой стержень действует на колесо.

$$J \frac{d\omega}{dt} = -\frac{\mu mg}{2(1+\mu)} \cdot R$$

$$J = \int_{R/2}^R \frac{2\pi r \cdot dr}{\pi R^2} \cdot M \cdot r^2$$

$$J = \frac{2M}{R^2} \int_{R/2}^R r^3 \cdot dr = \frac{2M}{R^2} \cdot \left(\frac{R^4}{4} - \frac{R^4}{4 \cdot 16} \right)$$

$$J = \frac{MR^2}{2} \left(1 - \frac{1}{16} \right) = \frac{MR^2}{2} \cdot \frac{15}{16} = \frac{15MR^2}{32}$$

$$\frac{15MR^2}{32 \cdot 16} \cdot \frac{d\omega}{dt} = -\frac{\mu mg}{2(1+\mu)} R$$

$$\frac{15}{16} MR \frac{d\omega}{dt} = -\frac{\mu mg}{(1+\mu)}$$

$$\int_{\omega_0}^{\omega} 15MR d\omega = -\frac{16 \mu mg}{1+\mu} \int dt$$



По 3-ему закону Ньютона, сила трения, с которой колесо действует на стержень равна по модулю и противоположна по направлению силе трения, с которой стержень действует на колесо.

$$15MR \omega_0 = \frac{16 \mu mg}{1+\mu} \cdot t$$

$$\omega_0 = 2\pi \nu; \quad \nu = \frac{N}{t}; \quad \omega_0 = \frac{2\pi N}{t}$$

Так как время нам никак не известно, такой способ нам не подойдет.

Будем идти через энергию.

$$\text{ЗЭД: } \frac{J \omega_0^2}{2} + A_{тр} = 0; \quad \frac{J \omega_0^2}{2} = -A_{тр}$$

$$A_{тр} = -F_{тр} \cdot S = -\frac{\mu mg}{2(1+\mu)} \cdot 2\pi R \cdot N, \text{ тогда}$$

20 (20 и 6) (20 и 16) (20 и 4)

$$I\omega_0^2 = \frac{2\mu mg}{1+\mu} \cdot \pi R N_1$$

$$\frac{15MR^2}{3a} \cdot \omega_0^2 = \frac{2\mu mg}{1+\mu} \cdot \pi R N_1$$

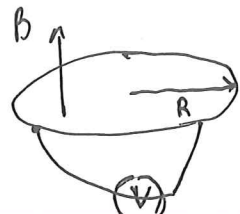
$$N_1 = \frac{15MR\omega_0^2(1+\mu)}{64\mu mg\pi}$$

$$N_2 = \frac{I\omega_0^2(1+\mu)}{2\mu mg\pi R}$$

$$\frac{N_1}{N_2} = \frac{1+\mu}{1-\mu}; \quad N_2 = \frac{N_1(1-\mu)}{1+\mu} = \frac{65 \cdot 0,7}{1,3} = 50 \cdot 0,7 = 35$$

Ответ: 35 оборотов

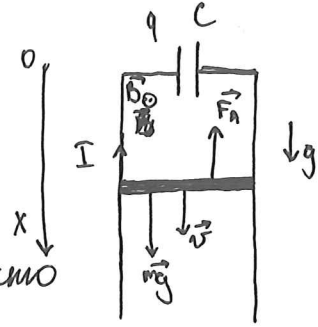
Вопрос 3: $\mathcal{E}_i = -\frac{d\Phi}{dt} = -\pi R^2 \cdot \frac{dB}{dt}; \quad B(t) = B_0 + \beta t; \quad \frac{dB}{dt} = \beta$



$\mathcal{E}_i = -\pi R^2 \cdot \beta$. Вследствии изменения магнитного потока в катушке будет возникать $\mathcal{E}_i = -\pi R^2 \beta$; стрелка показывает направление ~~возникающего~~ возникающего тока, относительно изменения Φ . Таким образом показания вольтметра будут равны $U_{\text{кв}} = \pi R^2 \cdot \beta$


направление ~~возникающего~~ возникающего тока, относительно изменения Φ . Таким образом показания вольтметра будут равны $U_{\text{кв}} = \pi R^2 \cdot \beta$

Дано: $l; d; \rho; \gamma; \beta; C; x(t)?$
 Решение: $R = \frac{\rho l}{S}; \quad S = d^2 \Rightarrow R = \frac{\rho}{d}$
 Записка в этой задаче будет эквивалентна металлическому стержню той же массы и сопротивления.



$\mathcal{E} = Bvl$; По 2-ому правилу Кирхгофа: $Bvl = IR + \frac{q}{C}$
 По 2-ому закону Ньютона: $ma = mg - BIl$; $I = \frac{m(g-a)}{Bl} = \frac{\rho l d}{2B} g_i$
 $m = \rho \cdot l \cdot d$; $\frac{\rho l d (g-a)}{2B} = \frac{\rho l d}{2B} g_i \left(a = \frac{g}{2} \right) = \text{const}$
 $Bvl = \frac{I\rho}{d} + \frac{q}{C}$
 $B \frac{dv}{dt} l = \frac{I}{C}$
 $Bal = \frac{I}{C}$
 $Bgl = 2 \frac{I}{C}$

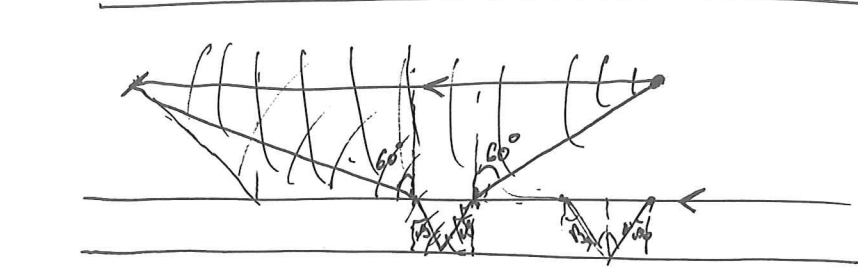
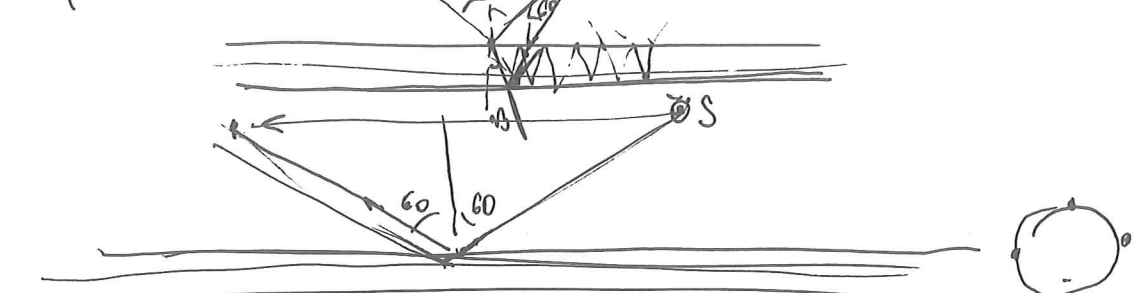
Чертовский.



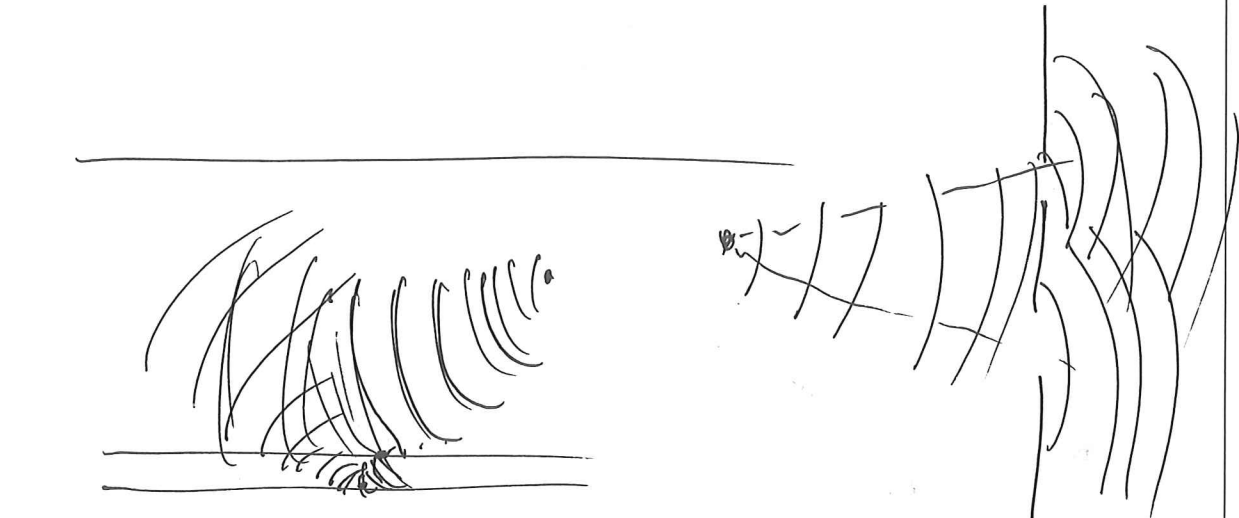
где $B_1 \sin \beta_0 = B_2 \sin \beta$
 $\frac{1}{\sin \beta_0} = n; \quad \sin \beta_0 = \frac{2}{3} = \frac{1}{1,5}$




$\beta_0 > \beta$
 $\frac{\sin \beta}{\frac{\sqrt{3}}{2}} = \frac{2}{3}$
 $\sin \beta = \frac{\sqrt{3}}{3} = \frac{1}{1,7}$




$\int \vec{E} \cdot d\vec{l} = \mathcal{E}$



$\frac{d(\sin x)}{\cos x} = \frac{-\sin^2 x \cdot \cos x - \cos^2 x \cdot \sin x}{\cos^2 x} = -\frac{1}{\cos^2 x}$
 $ggh = ggh + ggx - \frac{F}{S}$





78-99-89-81
(113.3)

$v_{\text{взг}} = \lambda \cdot \frac{2\pi \nu}{\lambda} = 2\pi \nu$; $c = \lambda \nu$ $c = \frac{2\pi d}{B^2}$

Заслонка будет двигаться равноускоренно

$x(t) = v_0 t + \frac{a t^2}{2}$; $v(t) = a t = \frac{g}{2} t$


$x(t) = v_0 t + \frac{a t^2}{2}$; $x(t) = \frac{g t^2}{4}$

Ответ: $c = \frac{2\pi d}{B^2}$; $x(t) = \frac{g t^2}{4}$

Вопрос 4: Чтобы на экране наблюдались интерференционные полосы, надо чтобы источники испускающие свет были когерентными: они должны испускать свет с одной частотой и разность начальных фаз волн всегда должна быть постоянной ($\phi_{01} - \phi_{02} = \text{const}$)

Интерференция - явление сложения или вычитания волн.

Чтобы на экране наблюдались минимумы интерференционной картины, волны должны идти в противофазе и уничтожать друг друга (чтобы

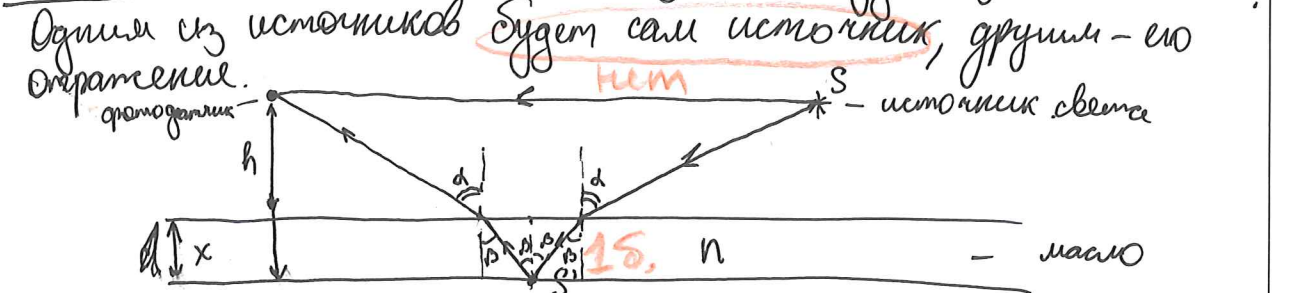


минимумы накладывались на максимумы другой волны и наоборот).

Для этого должно выполняться условие минимума: $\Delta = \frac{k d}{2}$; Δ - разность хода волн; k - целое число; d - длина волны, а также источники должны быть когерентными.

Дано:
 $\lambda = 500 \text{ нм}$
 $\alpha = 60^\circ$
 $n = 1,5$
 $T = 15 \text{ мкм}$
Число - ?

Решение: Интенсивность света будет меняться из-за интерференции и уменьшения ширины масляной плёнки. В зависимости от ширины плёнки разность хода между когерентными источниками будет зависеть от толщины масляной плёнки и за T будет изменяться на λ .



$$\frac{\sin \alpha}{\sin \beta} = n; \sin \alpha = n \sin \beta$$

Числовик
 Пусть расстояние между
 источником света и фотодатчиком
 будет равно L ; тогда
 Расстояние, которое пройдет
 свет от источника - L ;
 расстояние, которое свет
 пройдет от отражения - S_2

$$S_2 = S_u + S_b$$

$$S_u \cdot \sin \beta \neq S_b \cdot \sin \alpha = \frac{L}{2}$$

Пусть x - толщина
 слоя масла.

$$S_u = \frac{x}{\cos \beta}$$

$$x \cdot \tan \beta + S_b \cdot \sin \alpha = \frac{L}{2}$$

Пусть h - расстояние от ~~из~~ фотодатчика до воды.

$$S_b = \frac{h-x}{\cos \alpha}; \text{ или } x \tan \beta + (h-x) \tan \alpha = \frac{L}{2} = \text{const}$$

Так как при изменении ~~веса~~ ~~толщины~~ ~~слоя~~ ~~масла~~ ~~толщины~~ ~~слоя~~ d и β меняются

не будем: $v_{\text{масл}} \tan \beta \neq v_{\text{масл}} \tan \alpha = 0$

$$S_2 = \frac{x}{\cos \beta} + \frac{h-x}{\cos \alpha}$$

$$\Delta = S_2 - L = \frac{x}{\cos \beta} + \frac{h-x}{\cos \alpha} - L - \text{разность хода};$$

$$\frac{d\Delta}{dt} = \frac{v_{\text{масл}}}{\cos \beta} - \frac{v_{\text{масл}}}{\cos \alpha}$$

$$d\Delta = v_{\text{масл}} \cdot dt (\cos \alpha - \cos \beta)$$

$$d\Delta = v_{\text{масл}} \cdot dt$$

$$\int_0^{\Delta} d\Delta = v_{\text{масл}} \left(\frac{1}{\cos \beta} - \frac{1}{\cos \alpha} \right) \int_0^T dt$$

$$\Delta = v_{\text{масл}} \left(\frac{1}{\cos \beta} - \frac{1}{\cos \alpha} \right) T$$

$$v_{\text{масл}} = \frac{\Delta \cos \alpha \cdot \cos \beta}{T (\cos \alpha - \cos \beta)}$$



Вопрос 2. Дано: $x_1 = 0.004 \text{ м}$; $b_2 = 4b_1$; $\rho_2 = 3\rho_1$

$F_n \sim \sigma$; $\sigma \sim \rho g x S$; так как g и S не

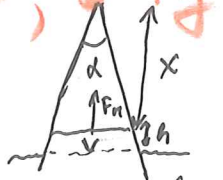
$F_n = \rho g x S$ одинаковы; $\Rightarrow \frac{\sigma_1}{\sigma_2} = \frac{\rho_1 x_1}{\rho_2 x_2}$

$$x_2 = \frac{\rho_1 x_1 \sigma_2}{\rho_2 \sigma_1} = \frac{\rho_1 x_1 \cdot 4\sigma_1}{3\rho_1 \cdot \sigma_1} ; x_2 = \frac{x_1}{3} = 0.5 \text{ мм}$$

Ответ: 0.5 мм.

← что это?

В какую сторону? Вниз, в F_n все



Дано: α, ρ, σ | $V \approx h b dx$; так как α - малый угол
 $\rho g h \cdot dx l = F_n$; $F_n \sim \sigma$; $F_n = \sigma b$

$h(x) = ?$ | $x \gg \sqrt{\frac{2\sigma}{\rho g h}}$; $\rho g h \alpha x l = \sigma b$; $S = \alpha x l$

l - длина пластин; $\rho g h = \sigma$

нет ответа