



**МОСКОВСКИЙ ГОСУДАРСТВЕННЫЙ УНИВЕРСИТЕТ
имени М.В.ЛОМОНОСОВА**

Вариант С-2

Место проведения Москва
город

ПИСЬМЕННАЯ РАБОТА

Олимпиада школьников «Покори Воробьёвы горы!»
наименование олимпиады

по математике
профиль олимпиады

Мазей Сергей Юрьевич
фамилия, имя, отчество участника (в родительном падеже)

+1

Шифр	Сумма	1	2	3	4	5	6	7	8
54-64-51-85	90	20	20	20	20	10	0		

N1.

Чебоксары. I

$$1 - \sqrt{2} \cos x (\sin x + 2 \cos x) + \sqrt{2} \cdot \sin x (2 \sin x - \cos x) = 2 \sin^2 \left(x + \frac{\pi}{8} \right)$$

$$1 - \sqrt{2} \cdot \cos x \cdot \sin x - 2\sqrt{2} \cos^2 x + \sqrt{2} \cdot 2 \cdot \sin^2 x - \sqrt{2} \cdot \sin x \cdot \cos x = 2 \sin^2 \left(x + \frac{\pi}{8} \right)$$

$$1 - \frac{\sqrt{2}}{2} \cdot \sin 2x - 2\sqrt{2} (\cos^2 x - \sin^2 x) - \frac{\sqrt{2}}{2} \cdot \sin 2x = 2 \sin^2 \left(x + \frac{\pi}{8} \right)$$

$$1 - \sqrt{2} \cdot \sin 2x - 2\sqrt{2} \cdot \cos 2x = 2 \cdot \left(1 - \cos^2 \left(x + \frac{\pi}{8} \right) \right)$$

$$1 - 2 - \sqrt{2} \cdot \sin 2x - 2\sqrt{2} \cdot \cos 2x = -2 \cos^2 \left(x + \frac{\pi}{8} \right)$$

$$-1 - \sqrt{2} \sin 2x - 2\sqrt{2} \cos 2x + 2 \cos^2 \left(x + \frac{\pi}{8} \right) = 0$$

$$-1 - \sqrt{2} \sin 2x - 2\sqrt{2} \cos 2x + \cos \left(2x + \frac{\pi}{4} \right) + 1 = 0$$

$$-\sqrt{2} \sin 2x - 2\sqrt{2} \cos 2x + \cos 2x \cdot \cos \frac{\pi}{4} - \sin 2x \cdot \sin \frac{\pi}{4} = 0$$

$$-\sqrt{2} \sin 2x - 2\sqrt{2} \cos 2x + \frac{\sqrt{2}}{2} \cos 2x - \frac{\sqrt{2}}{2} \sin 2x = 0$$

$$-\frac{3}{2} \sqrt{2} \sin 2x - \frac{3}{2} \sqrt{2} \cos 2x = 0 \quad | : \left(-\frac{3}{2} \sqrt{2} \right)$$

$$\sin 2x + \cos 2x = 0$$

$$\sin 2x + \sin \left(\frac{\pi}{2} - 2x \right) = 0$$

$$2 \cdot \sin \left(\frac{2x + \frac{\pi}{2} - 2x}{2} \right) \cdot \cos \left(\frac{2x - \frac{\pi}{2} + 2x}{2} \right) = 0 \quad | : 2$$

$$\sin \frac{\pi}{4} \cdot \cos \left(2x - \frac{\pi}{4} \right) = 0$$

$$\frac{\sqrt{2}}{2} \cdot \cos \left(2x - \frac{\pi}{4} \right) = 0 \quad | : \frac{\sqrt{2}}{2}$$

$$\cos \left(2x - \frac{\pi}{4} \right) = 0$$

$$2x - \frac{\pi}{4} = \frac{\pi}{2} + \pi k, \quad k \in \mathbb{Z}$$

$$2x = \frac{3\pi}{4} + \pi k, \quad k \in \mathbb{Z}$$

$$x = \frac{3\pi}{8} + \frac{\pi k}{2}, \quad k \in \mathbb{Z}$$

$$\text{Ответ: } \frac{3\pi}{8} + \frac{\pi k}{2}, \quad k \in \mathbb{Z}$$

Черновик.

①

$$\cos^2 x$$

$$\cos 2x = \cos^2 x - \sin^2 x = \cos^2 x - 1 + \cos^2 x = 2\cos^2 x - 1$$

$$\underline{2\cos^2 x = \cos 2x + 1}$$

②



? t = ?

Время выезда: 13:00 и 12:00

ост. - 2ч

$x - v_{вел.}$

$2x - v_{мот}$

1) мот. на час раньше: 12:00 - мот. 13:00 - вел.

$$2x \cdot (t - 1) = x \cdot (t)$$

$$2t - 2 = t$$

$$t = 2 \rightarrow 17:00$$

2) мот. на час позже:

$$2x(t - 3) = x(t)$$

$$2t - 6 = t$$

$$t = 6 \rightarrow 18:00$$

1) мот. - 12:00 - ост. 2ч. (t-2+1)
вел. - 13:00 - t в пути

$$2x \cdot (t - 2 + 1) = t \cdot x \quad | :x \Rightarrow$$

$$2(t - 1) = t$$

$$2t - 2 = t$$

$$t = 2 \Rightarrow 15:00$$

2) мот. - 13:00 - ост. 2ч (t-1-2)
вел. - 12:00 - t в пути

$$2x(t - 3) = t \cdot x \quad | :x$$

$$2t - 6 = t$$

$$t = 6 \Rightarrow 18:00$$

54-64-51-85
(123.7)

№6.

Числовик. 9

$1 = p_1 < p_2 < \dots < p_k = N$ — всего их $\delta(N)$

$\delta(N^3) = ?$

$p_3 \cdot p_4 \cdot p_{1696} \cdot p_{1697} \geq N^2$

$20 = 20, 10, 5, 4, 2, 1$

$30 = 30, 15, 6, 5, 2, 1$

$45 = 45, 15, 9, 5, 3, 1$

$120 = 120, 60, 40, 30, 20, 15, 12, 10, 8, 6, 5, 4, 3, 2, 1$

$p_3 \cdot p_{1697} = N$

$p_4 \cdot p_{1696} = N$

$120 \cdot 120 = 40 \cdot 3 \cdot 30 \cdot 4 = 120^2$

Если $k > 1699$, то не будет вып-ся \Rightarrow

\Rightarrow кол-во членов = 1699, т.е. у числа $N - 1699$ дел. \Rightarrow

$\Rightarrow N^2$ их $1699 \cdot 2 + 1 =$ т.к. у N^2 делителей на 1 больше из-за N если $N \neq$ четное

Тогда у N^3 их

если N — неч., тогда

у N^2 их $1699 \cdot 2 - 1 = 3397$

у N^3 : $2n - 2$, где n — кол-во дел. у N^2 ,

т.е. $3399 \cdot 2 - 2 = 16.000 - 4 = 15.996$

или $2n - 4$:

$3339 \cdot 2 - 4 = 16.000 - 6 = 15.994$

Ответ: 15.996 или 15.994

Черновик.

⑥

20 = 20, 10, 5, 4, 2, 1 - 6 чис.

400 = 400, 200, 100, 80, 50, 40, 20, 10, 8, 5, 4, 2, 1

$$15 = \frac{400}{100} \Big| \frac{15}{2}$$

8.000 = 8.000, 4.000, 2.000, 1.600, 1.000, 800, 500, 400, 350,

$$\begin{array}{r} 8.000 \\ - 72 \\ \hline 80 \end{array}$$

$$\begin{array}{r} 40 \quad 50 \quad 80 \\ 200, 160, 100, \end{array} \Big| \begin{array}{r} 100, 160 \\ 80, \end{array}$$

$$\begin{array}{r} 8000 \\ - 75 \\ \hline 50 \\ - 45 \\ \hline 50 \end{array} \Big| \frac{15}{53}$$

24

$$\begin{array}{r} 8000 \\ - 80 \\ \hline 50 \end{array} \Big| \frac{16}{520}$$

$$\begin{array}{r} 8000 \\ - 75 \\ \hline 50 \end{array} \Big| \frac{25}{350}$$

$$\begin{array}{r} 8000 \\ - 70 \\ \hline 100 \\ - 70 \\ \hline 300 \end{array} \Big| \frac{35}{22}$$

$$\begin{array}{r} 3 \\ 45 \\ \times 7 \\ \hline 315 \end{array}$$

$$\begin{array}{r} 8000 \\ - 45 \\ \hline 350 \\ - 315 \\ \hline 350 \end{array} \Big| \frac{45}{17}$$

$$729 = 9^3 = 3^6 = 3 \cdot 3 \cdot 3 \cdot 3 \cdot 3 \cdot 3$$

2

9 = 9 3 1 - 3

81 = 81 27 9 3 1 - 5 2n-1

81 = 81 27 9 3 1 - 5 шт.

729 = 729, 3⁵, 3⁴, 3³

9, 31 - 6 шт

Черновик.

$$5 = 5 \cdot 1 - 2$$

$$25 = 25 \cdot 5 \cdot 1 - 3$$

$$125 = 125 \cdot 25 \cdot 5 \cdot 1 - 4$$

$$4 = 4, 2, 1 - 3 \text{ шт.}$$

$$16 = 16, 8, 4, 2, 1 - 5 \text{ шт.}$$



$$27 = 27 \cdot 9 \cdot 3 \cdot 1 - 4$$


$$27^2 = 3^6$$

$$27^3 = 3^9$$

$$27^2 = 27^2 \cdot 27 \cdot 3 \cdot 1 - 7$$

$3^4, 3^3$ $3^1, 3^2$

$$27^3 = 3^9 \cdot 3^8 \cdot 3^7 \cdot 3^6 \cdot 3^5 \cdot 3^4 \cdot 3^3 \cdot 3^2 \cdot 3 \cdot 1 - 10 \text{ шт.}$$



$$\begin{array}{r} 1699 \\ \times 2 \\ \hline 3398 \end{array} \quad \begin{array}{r} 1800 \\ \times 2 \\ \hline 3 \end{array}$$

$$(4000 - 1) \cdot 2 = 16.000 - 2 - 2 = 1700$$

3

Черновик.

$$x^3 + 6x^2 + 7x + 1 = 0$$

По Ф. Виета для кубич. ур-ня:

$$\begin{cases} x_1 + x_2 + x_3 = -6 \\ x_1 \cdot x_2 + x_1 \cdot x_3 + x_2 \cdot x_3 = 7 \\ x_1 \cdot x_2 \cdot x_3 = -1 \end{cases}$$

$$\begin{aligned} & (t+x_1)(t+x_2)(t+x_3) = \\ & = (t^2 + t \cdot x_3 + t \cdot x_1 + x_1 \cdot x_3)(t+x_2) = \\ & = t^3 + t^2 x_3 + t^2 x_1 + t \cdot x_1 \cdot x_3 + \\ & \quad + t^2 x_2 + t \cdot x_3 \cdot x_2 + t \cdot x_1 \cdot x_2 + x_1 \cdot x_2 \cdot x_3 \end{aligned}$$

$$x^3 + ax^2 + bx + c = 0 \Leftrightarrow$$

$$(x - x_1 - x_2)(x - x_2 - x_3)(x - x_3 - x_1) =$$

$$= (x - (-6 - x_3))(x - (-6 - x_1))(x - (-6 - x_2)) =$$

$$= (x + 6 + x_3)(x + 6 + x_1)(x + 6 + x_2) =$$

$$= (x^2 + 6x + x \cdot x_3 + 6x + 36 + 6 \cdot x_3 + x \cdot x_1 + 6 \cdot x_1 + x_1 \cdot x_3)(x + 6 + x_2) =$$

$$x^2 + 12x + x \cdot x_3 + 36 + 6 \cdot x_3 + x \cdot x_1 + 6 \cdot x_1 + x_1 \cdot x_3$$

$$\begin{aligned} & = x^3 + \underbrace{12x^2}_{+} + \underbrace{x^2 x_3}_{+} + \underbrace{36x}_{+} + \underbrace{6 \cdot x \cdot x_3}_{+} + \underbrace{x^2 x_1}_{+} + \underbrace{6 \cdot x \cdot x_1}_{+} + \underbrace{x \cdot x_1 \cdot x_3}_{+} + \\ & + \underbrace{6x^2}_{+} + \underbrace{72x}_{+} + \underbrace{6 \cdot x \cdot x_3}_{+} + \underbrace{216}_{+} + \underbrace{36x_3}_{+} + \underbrace{6 \cdot x \cdot x_1}_{+} + \underbrace{36x_1}_{+} + \underbrace{6 \cdot x_1 \cdot x_3}_{+} + \underbrace{x^2 x_2}_{+} + \underbrace{12 \cdot x \cdot x_2}_{+} \\ & + \underbrace{x \cdot x_2 \cdot x_3}_{+} + \underbrace{36x_2}_{+} + \underbrace{6 \cdot x_2 \cdot x_3}_{+} + \underbrace{x \cdot x_1 \cdot x_2}_{+} + \underbrace{6 \cdot x_1 \cdot x_2}_{+} + \underbrace{x_1 \cdot x_2 \cdot x_3}_{-1} = \end{aligned}$$

$$= x^3 + (12 + x_3 + x_1 + 6 + x_2) x^2 + (36 + 6x_3 + 6x_1 + x_1 x_3 + 72 + 6x_3 +$$

$$+ 6x_1 + 12x_2 + x_2 x_3 + x_1 x_2) x + 36x_3 + 36x_1 + 6x_1 x_3 +$$

$$+ 36x_2 + 6x_2 x_3 + 6 \cdot x_1 \cdot x_2 + 215 =$$

$$= x^3 + (18 + (-6))x^2 + (108 + 7 + 12(x_3 + x_1 + x_2))x + 36(x_1 + x_2 + x_3) +$$

$$+ 6(x_1 x_2 + x_2 x_3 + x_1 x_3) + 215 =$$

$$= x^3 + 12x^2 + 43x - 216 + 72 + 215 = x^3 + 12x^2 + 43x + 41$$

$$\begin{array}{r} -216 \\ -72 \\ \hline 144 \end{array}$$

N2.

Пусть x (км/ч) — \mathcal{V} велосипедиста, тогда $2 \cdot x$ (км/ч) — \mathcal{V} мот.

Велосипедист не мог сделать двухчасовую остановку, т.к. тогда он в пути был бы меньше кол-во времени, чем мотоциклист (на 1 час, если мот. выехал ~~раньше~~^{позже} или на 3 часа, если мот. выехал раньше) и его скорость меньше скорости мотоциклиста \Rightarrow они не придут в пункт Б одновременно (велосипедист с меньшей \mathcal{V} за меньшее t не мог ~~прежде~~ приехать в Б вместе с мотоциклистом, который с большим t и большей \mathcal{V} преодолевает такое же расстояние, что и велосипедист)

Тогда нам нужно рассмотреть 2 случая:

- 1) Остановку делает ~~вел.~~ мотоциклист; мот. выехал в 12:00, а вел. выехал в 13:00

Пусть t (ч) время в пути велосипедиста,
Тогда $(t - 2 + 1)$ ч — — — мотоциклиста (включая остановку (2 часа) и прибавили час, когда ~~вел.~~^{мот.} ехал один)

Приравняем расстояния, кот. проехали вел-т и мот-т:

$$x \cdot t = 2x(t - 2 + 1) \mid : x > 0, \text{ т.к. скорости полож-ны}$$

$$t = 2(t - 1)$$

$$t = 2t - 2$$

$$2 = t \Rightarrow \text{оба финишируют в } 13:00 + 2ч = 15:00$$

- 2) Остановку делает мот-т; мот. выехал в 13:00
вел. выехал в 12:00

№2 (продолж.)

Числовик. 3

Пусть t (ч) - время в пути вел.-га,
тогда $(t-2-1)t - 11 =$ мот.-га (вычитаем остановку и час, когда ехал один вел.-г)

Приравняем расстояния, кот. проехали вел. и мот.:

$$t \cdot x = 2x(t-2-1) \mid : x > 0$$

$$t = 2(t-3)$$

$$t = 2t - 6$$

$$6 = t \Rightarrow \text{финиширует в } 12:00 + 6 \text{ ч} = 18:00$$

Ответ: 15:00 или 18:00

№3.

П.к. x_1, x_2, x_3 - корни кубич. ур-ня $x^3 + 6x^2 + 7x + 1 = 0$, то

по г. Виета для кубич. ур-ня:

$$\begin{cases} x_1 + x_2 + x_3 = -6 \\ x_1 \cdot x_2 + x_1 \cdot x_3 + x_2 \cdot x_3 = 7 \\ x_1 \cdot x_2 \cdot x_3 = -1 \end{cases}$$

Многочлен $x^3 + ax^2 + bx + c$ можно представить в виде:

$$(x - (x_1 + x_2))(x - (x_2 + x_3))(x - (x_3 + x_1)), \text{ где } (x_1 + x_2); (x_2 + x_3); (x_3 + x_1) - \text{ корни ур-ня } x^3 + ax^2 + bx + c = 0$$

Преобразуем: $(x - (x_1 + x_2))(x - (x_2 + x_3))(x - (x_3 + x_1)) =$
 $= (x - (-6 - x_3))(x - (-6 - x_1))(x - (-6 - x_2)) = (x + 6 + x_3)(x + 6 + x_1)(x + 6 + x_2) \neq$

Пусть $x + 6 = t$, тогда вып-ие примет вид:

$$\begin{aligned} (t + x_3)(t + x_1)(t + x_2) &= (t^2 + t x_3 + t x_1 + x_1 x_3)(t + x_2) = \\ &= t^3 + t^2 x_3 + t^2 x_1 + t x_1 x_3 + t^2 x_2 + t x_3 x_2 + t x_2 x_1 + x_1 x_2 x_3 = \\ &= t^3 + t^2(x_1 + x_2 + x_3) + t(x_1 x_3 + x_2 x_1 + x_3 x_2) + x_1 x_2 x_3 = \\ &= t^3 + t^2(-6) + t \cdot 7 - 1 = t^3 - 6t^2 + 7t - 1 \end{aligned}$$

N3 (прод.)

Обр. замена:

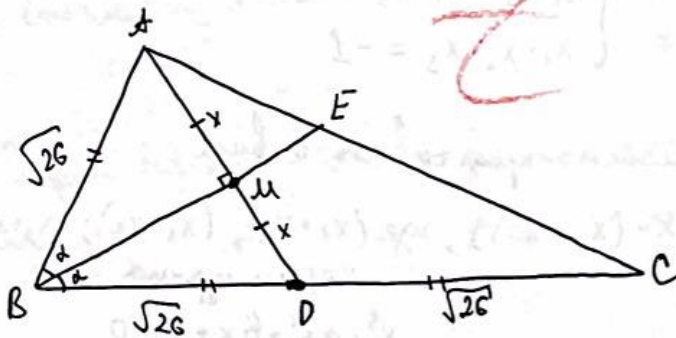
$$\begin{aligned} (x+6)^3 - 6(x+6)^2 + 7 \cdot (x+6) - 1 &= x^3 + 3 \cdot x^2 \cdot 6 + 3 \cdot x \cdot 36 + 216 - 6(x^2 + 12x + 36) + \\ + 7x + 42 - 1 &= x^3 + 18x^2 + \cancel{36x} + 216 - 6x^2 - \cancel{72x} - \cancel{216} + 7x + 41 = \\ &= x^3 + 12x^2 + (\cancel{36} - 72 + 7)x + 41 = x^3 + 12x^2 + (36+7)x + 41 = \\ &= x^3 + 12x^2 + 43x + 41, \end{aligned}$$

Таким образом, $x^3 + ax^2 + bx + c = x^3 + 12x^2 + 43x + 41 \Rightarrow$

$$\Rightarrow \begin{cases} a = 12 \\ b = 43 \\ c = 41 \end{cases}$$

Ответ: $a = 12; b = 43; c = 41$

N4.



Дано: BE - бис-са; AD - мед.;
BE = AD; BE ⊥ AD
AB = √26
Найти: S_{ABC} = ?

Решение: 1) Пусть AD ∩ BE = M

2) В Δ ABD: BM - высота и бис-са ⇒ Δ ABD - р/б
(по признаку) ⇒
п/б Δ-ка
⇒ AB = BD = √26

3) Т.к. в р/б Δ ABD, BM - высота и бис-са ⇒ BM явл.
медяной (по св-ву р/б Δ-ка) ⇒ AM = MD

4) Пусть BE = AD = 2x, тогда AM = MD = $\frac{AD}{2} = x$
∠ABM = ∠MBD = α

$$\begin{cases} BC = BD + DC \\ BD = DC = \sqrt{26} \end{cases} \Rightarrow BC = 2\sqrt{26}$$

NЧ. (прод.)

6) В $\triangle ABC$ по формуле длины бисс-сы:

$$BE = \frac{2 \cdot AB \cdot BC}{AB + BC} \cdot \cos\left(\frac{\angle ABC}{2}\right)$$

$$2x = \frac{2 \cdot \sqrt{26} \cdot 2\sqrt{26}}{\sqrt{26} + 2\sqrt{26}} \cdot \cos d$$

$$2x = \frac{4 \cdot (\sqrt{26})^2}{3\sqrt{26}} \cdot \cos d \quad | : 2$$

$$x = \frac{2}{3} \cdot \sqrt{26} \cdot \cos d; \quad \cos d = \frac{3x}{2 \cdot \sqrt{26}}$$

7) В n/yz -ном $\triangle AMB$: $\sin d = \frac{AM}{AB} \Rightarrow AM = \sin d \cdot AB$

$$x = \sin d \cdot \sqrt{26}; \quad \sin d = \frac{x}{\sqrt{26}}$$

8) Из п. 6 и 7 $\Rightarrow \begin{cases} \cos d \cdot \frac{2\sqrt{26}}{3} = x \quad | \uparrow 2 \\ \sin d \cdot \sqrt{26} = x \quad | \uparrow 2 \end{cases}$ Возведем оба ур-ня в квадраты, т.к. $\angle d < 90^\circ \Rightarrow d \in I \text{ч.} \Rightarrow \cos d > 0, \sin d > 0$

$$\begin{cases} \cos^2 d \cdot \frac{4 \cdot 26}{9} = x^2 \\ \sin^2 d \cdot 26 = x^2 \end{cases} \Leftrightarrow \begin{cases} 26 \cdot \cos^2 d = \frac{9x^2}{4} \\ 26 \cdot \sin^2 d = x^2 \end{cases} \quad | \oplus$$

$$26(\underbrace{\cos^2 d + \sin^2 d}_1) = \frac{9x^2}{4} + \frac{4x^2}{4}$$

$$26 = \frac{13x^2}{4}$$

$$x^2 = \frac{26 \cdot 4}{13}$$

$$x^2 = 8 \Rightarrow \begin{cases} x = 2\sqrt{2} \\ x = -2\sqrt{2} - \text{н.к., т.к. } x > 0 \end{cases}$$

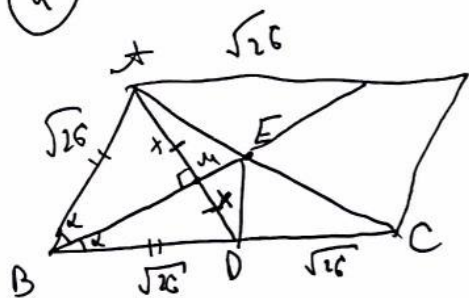
9) Из п. 6 $\Rightarrow \begin{cases} \cos d = \frac{3x}{2 \cdot \sqrt{26}} \\ x = 2\sqrt{2} \end{cases} \Rightarrow \cos d = \frac{3 \cdot 2\sqrt{2}}{2 \cdot \sqrt{26}}; \quad \cos d = \frac{3}{\sqrt{13}}$ 10) Из п. 7 и 8 $\Rightarrow \begin{cases} \sin d = \frac{x}{\sqrt{26}} \\ x = 2\sqrt{2} \end{cases} \Rightarrow \sin d = \frac{2\sqrt{2}}{\sqrt{26}}; \quad \sin d = \frac{2}{\sqrt{13}}$ 11) Из 9 и 10 $\Rightarrow \begin{cases} \cos d = \frac{3}{\sqrt{13}} \\ \sin d = \frac{2}{\sqrt{13}} \end{cases} \Rightarrow \sin 2d = 2 \cdot \sin d \cdot \cos d$

$$\sin 2d = 2 \cdot \frac{3}{\sqrt{13}} \cdot \frac{2}{\sqrt{13}}$$

$$\sin 2d = \frac{12}{13}$$

Черновик.

4



$$S_{\triangle BD} = \frac{1}{2} \cdot AB \cdot BD \cdot \sin \alpha = \frac{1}{2} \cdot 26 \cdot \sin \alpha$$

$$\frac{AE}{EC} = \frac{AB}{BC}$$

?
BE = AD

$$BE = \frac{2 \cdot AB \cdot BC \cdot \cos \alpha}{AB + BC} = 2x \Rightarrow \frac{2 \cdot \sqrt{26} \cdot 2\sqrt{26} \cdot \cos \alpha}{3 \cdot \sqrt{26}} = 2x$$

$$\frac{2}{3} \sqrt{26} \cdot \cos \alpha = x$$

$$AM = x = \sin \alpha \cdot \sqrt{26} \Rightarrow x = \sin \alpha \sqrt{26}$$

$$\begin{cases} x = \sin \alpha \sqrt{26} \\ \frac{2}{3} \sqrt{26} \cdot \cos \alpha = x \end{cases} \Leftrightarrow \begin{cases} \sin \alpha \sqrt{26} = x \quad | \uparrow^2 \\ \frac{2}{3} \cos \alpha \sqrt{26} = x \quad | \uparrow^2 \end{cases}$$

$$\sin^2 \alpha + \cos^2 \alpha = 1$$

$$\begin{cases} \sin^2 \alpha \cdot 26 = x^2 \\ \cos^2 \alpha \cdot 26 = x^2 \cdot \frac{9}{4} \end{cases} \quad (\oplus)$$

$$26 = \frac{13 \cdot x^2}{4} \Rightarrow$$

$$\Rightarrow x^2 = \frac{7}{4} = \frac{1}{2} \cdot 8$$

$$x^2 = \frac{26 \cdot 4}{13} = 8$$

$$x = 2\sqrt{2}$$

$$\begin{cases} \sin \alpha = \frac{x}{\sqrt{26}} = \frac{2\sqrt{2}}{\sqrt{26}} \\ \cos \alpha = \frac{x \cdot 3}{2\sqrt{26}} = \frac{2\sqrt{2} \cdot 3}{2\sqrt{26}} \end{cases}$$

$$\sin \alpha = \frac{2\sqrt{2} \cdot \sqrt{26}}{26} = \frac{4\sqrt{13}}{26}$$

$$\cos \alpha =$$

$$\sin \alpha = \frac{2}{\sqrt{13}}; \cos \alpha = \frac{3}{\sqrt{13}}$$

$$\sin 2\alpha = 2 \cdot \frac{2}{\sqrt{13}} \cdot \frac{3}{\sqrt{13}} = \frac{12}{13}$$

№4 (прод. 2)

$$12) S_{\triangle ABC} = \frac{1}{2} \cdot AB \cdot BC \cdot \sin \angle ABC$$

$$S_{\triangle ABC} = \frac{1}{2} \cdot \sqrt{26} \cdot 2\sqrt{26} \cdot \sin 2\alpha$$

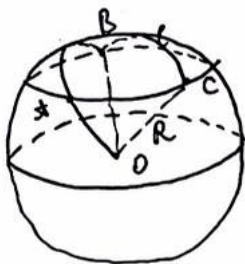
$$S_{\triangle ABC} = \frac{26 \cdot 12}{13}$$

$$S_{\triangle ABC} = 24$$

Ответ: 24



№5.



$$\rho(A, B) = 4\pi; \rho(A, C) = 3\pi; \rho(B, C) = 5\pi$$

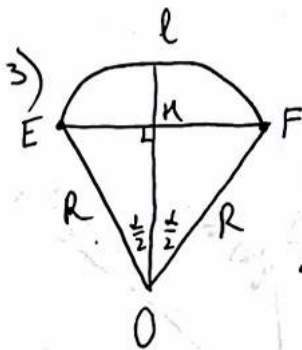
Найти: $\min \rho_{\text{по сф.}}$ = ?

1) Отметим, что г.к. ^{на дуге от центра} расстояние по поверхности сферы минимально, то минимальное ρ будет от $[0; \pi R]$

иначе оно перестанет быть минимальным и мы будем исследовать не ρ , а $(2\pi R - \rho)$; πR - это половина дуги окр-ти, на кот. расп. г. A, B и C с ~~радиус~~ центром O, где O - центр сферы

$$2) 4\pi + 3\pi + 5\pi = 12\pi = 2\pi R \Rightarrow R = 6$$

Заметим, что радиус не может быть меньше 6, т.к. тогда наиб. ρ будет меньше $6\pi \Rightarrow$ длина всей окр-ти $< 12\pi \Rightarrow$
 \Rightarrow A, B и C не размещаются



1. Рассмотрим нек-рые г. E и F, лежащие на сфере, пусть $\rho(E, F) = l$, тогда $\angle EOF = \alpha = \frac{l}{R}$

2. Проведем $OH \perp EF$, OH - высота, медиана и бис-са в $\triangle EOF \Rightarrow EH = HF, \angle EOH = \angle HOF = \frac{\alpha}{2}$

3. В $\triangle EHO$ имеем: $EH = \sin \angle EOH \cdot EO$
 $EH = \sin \frac{\alpha}{2} \cdot R$

4. $EF = 2 \cdot EH = 2R \cdot \sin \frac{l}{2R}$



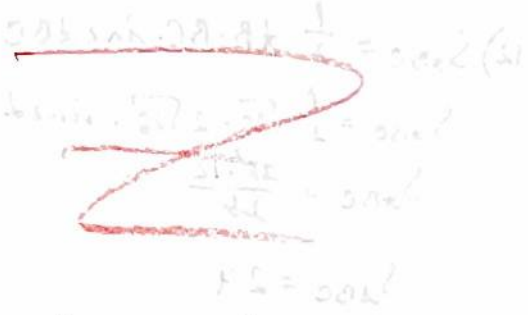
5. Распишем каждую ст. ΔABC через полукруглые вып-ие с данными l :

$$AB = 2R \cdot \sin \frac{4\pi}{2R} = 2R \cdot \sin \frac{2\pi}{R}$$

$$BC = 2R \cdot \sin \frac{5\pi}{2R} = 2R \cdot \sin \frac{2,5\pi}{R}$$

$$AC = 2R \cdot \sin \frac{3\pi}{2R} = 2R \cdot \sin \frac{1,5\pi}{R}$$

$$P_{\Delta ABC} = AB + BC + AC = 2R \cdot \sin \frac{2\pi}{R} + 2R \cdot \sin \frac{2,5\pi}{R} + 2R \cdot \sin \frac{1,5\pi}{R}$$



6. Рассм-м ф-цию $y(R) = R \cdot \sin \frac{\phi}{R}$

$$y'(R) = \sin \frac{\phi}{R} - \frac{\phi}{R} \cdot \cos \frac{\phi}{R}$$

Оценим $\frac{\phi}{R}$:

Из п. (2) мы выяснили, что $\min R = 6$

Рассм-м max величину $\frac{\phi}{R}$: $\frac{5\pi}{2R}$

$$\text{при } R = 6 \quad \frac{5\pi}{12} < \frac{\pi}{2}$$

и при последующем увеличении R ,

углы будут только уменьшаться \Rightarrow

$$\Rightarrow 0 < \frac{\phi}{R} < \frac{\pi}{2} \Rightarrow \frac{\phi}{R} \text{ - угол в } I \text{ кв.} \Rightarrow \begin{cases} \sin \frac{\phi}{R} > 0 \\ \cos \frac{\phi}{R} > 0 \end{cases}$$

Рассм-м $y'(R) = \sin \frac{\phi}{R} - \frac{\phi}{R} \cdot \cos \frac{\phi}{R}$

Предположим, что $\sin \frac{\phi}{R} - \frac{\phi}{R} \cdot \cos \frac{\phi}{R} > 0$

$$\sin \frac{\phi}{R} > \frac{\phi}{R} \cdot \cos \frac{\phi}{R} \quad | : \frac{\phi}{R} > 0$$

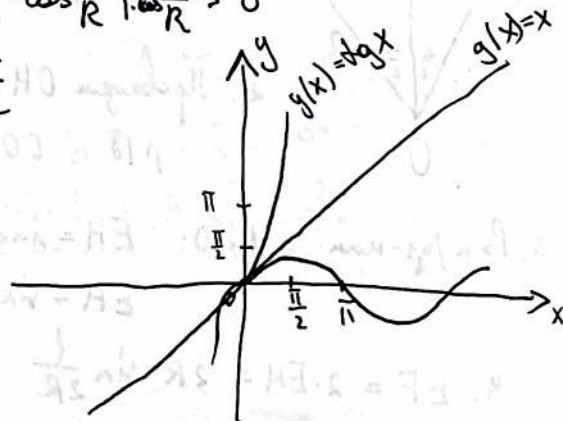
$$\operatorname{tg} \frac{\phi}{R} > \frac{\phi}{R}$$

Пусть $\frac{\phi}{R} = x$,

тогда рассм-м ф-ции:

$$y(x) = \operatorname{tg} x$$

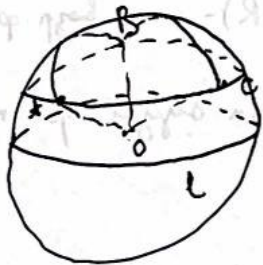
$$g(x) = x$$



8. задание

Чертеж.

5



$$C = 2\pi R = 6 \Rightarrow R < 6$$

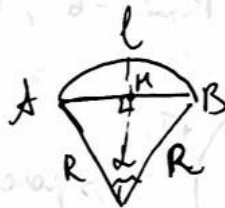
$$\overline{AB} = 4\pi$$

$$\overline{AC} = 3\pi$$

$$\overline{BC} = 5\pi$$

$$C = 4\pi + 3\pi + 5\pi = 12\pi$$

$$P_{ABC} = ?$$



$$0 < l \leq \frac{5}{2}\pi R, \text{ так как } \sin \varphi$$

$$L = \frac{l}{R}$$

$$\sin \alpha = \frac{AH}{R}; \sin \frac{l}{2R}$$

$$2AH = \sin \frac{l}{2} \cdot R$$

$$AH = \sin \frac{l}{2} \cdot R$$

$$P_{ABC} = 2R \sin \frac{l}{2R}$$

$$2 \cdot AH =$$

$$\frac{5\pi}{12} \leq \frac{\pi}{2}$$

$$P_{ABC} = 2R \sin \frac{4\pi}{2R} + 2R \sin \frac{3\pi}{2R} + 2R \sin \frac{5\pi}{2R}$$

$$f(R) = R \cdot \sin \frac{l}{R}$$

$$f'(R) = \sin \frac{l}{R} - \frac{l}{R} \cdot \cos \frac{l}{R}$$


Какие значения может принимать $\sin \frac{l}{R} - \frac{l}{R} \cdot \cos \frac{l}{R}$

$$\frac{l}{R} < \frac{\pi}{2} \Rightarrow \frac{l}{R} - \text{угол в } I \text{ ч.}$$

$$\sin \frac{l}{R} - \frac{l}{R} \cdot \cos \frac{l}{R} > 0$$

$$\sin \frac{l}{R} > \frac{l}{R} \cdot \cos \frac{l}{R} \quad | : \cos \frac{l}{R} > 0$$

$$\tan \frac{l}{R} > \frac{l}{R} \rightarrow \text{верно всегда}$$



$$\frac{2\pi}{12} + \frac{3\pi}{12}$$

$$\frac{\pi}{6} + \frac{\pi}{4} + \frac{\pi}{3}$$

$$\frac{\pi}{3} - \frac{\pi}{4}$$

$$\frac{l}{R} = x, \text{ тогда}$$

$$\frac{\pi}{6} + \frac{\pi}{3} = \frac{\pi}{6} + \frac{2\pi}{6} = \frac{3\pi}{6}$$

N5 (зад. 2)

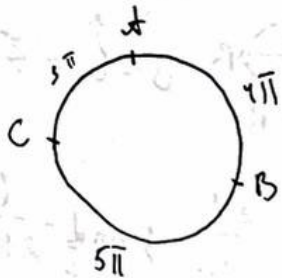
Числовик. 8

$$\text{в I ч. } \forall x \geq x \geq \sin x \Rightarrow$$

$$\Rightarrow \forall \frac{x}{R} > \frac{x}{R} - \text{верно} \Rightarrow y'(R) > 0 \Rightarrow y(R) - \text{мон. возр. ф-ция}$$

Итого: $P_{\triangle ABC}$ - сумма возраст. ф-ций $\Rightarrow \min$ будет при $\min R$

Найдём R : по п. 2) $R_{\min} = 6$, $C = 12\pi$



\rightarrow радиус. в. осн. по дуге дуга

при уменьшении R , $C \downarrow \Rightarrow$

расстояние и (д) радиусами тоже будут уменьш.

$$4) P_{\triangle ABC} = 2R \left(\sin \frac{2\pi}{R} + \sin \frac{2,5\pi}{R} + \sin \frac{1,5\pi}{R} \right)$$

$$P_{\triangle ABC} = 12 \left(\sin \frac{\pi}{3} + \sin \frac{5\pi}{12} + \sin \frac{3\pi}{12} \right)$$

$$P_{\triangle ABC} = 12 \left(\frac{\sqrt{3}}{2} + \sin \frac{\pi}{4} + \sin \left(\frac{\pi}{6} + \frac{\pi}{4} \right) \right) = 12 \left(\frac{\sqrt{3} + \sqrt{2}}{2} + \sin \frac{\pi}{6} \cdot \cos \frac{\pi}{4} + \cos \frac{\pi}{6} \cdot \sin \frac{\pi}{4} \right)$$

$$= 12 \left(\frac{\sqrt{3} + \sqrt{2}}{2} + \frac{\sqrt{2}}{4} + \frac{\sqrt{6}}{4} \right) = 12 \left(\frac{\sqrt{3}}{2} + \frac{3\sqrt{2}}{4} + \frac{\sqrt{6}}{4} \right) =$$

$$= 3(2\sqrt{3} + 3\sqrt{2} + \sqrt{6})$$

Ответ: $3(2\sqrt{3} + 3\sqrt{2} + \sqrt{6})$